

Fișa de lucru:

## Populația. Numărul populației și evoluția numerică.

### Densitatea populației și repartiția ei geografică

#### A. Numărul populației și evoluția numerică

România are în prezent un număr de **20,1 milioane locuitori**.

În ultimele decenii, numărul populației țării noastre a înregistrat o perioadă de creștere și una de scădere numerică.

*Analizați graficul alăturat („Evoluția numerică a populației României”) și scrieți în fișa de lucru:*

a. intervalul cu creștere numerică a populației;

R.....

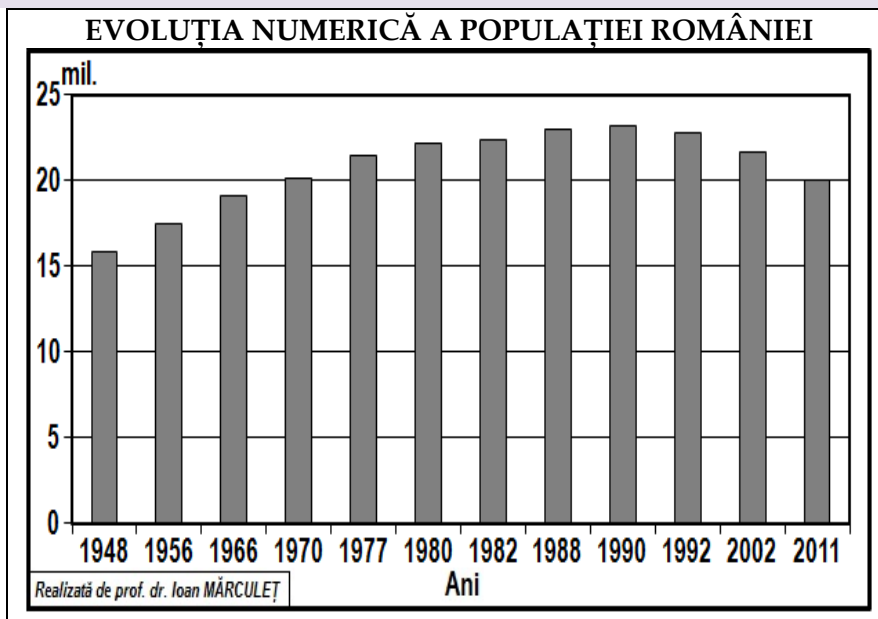
b. intervalul cu scădere numerică a populației;

R.....

c. anul în care România a avut cel mai redus număr de locuitori (15,8 mil.);

R.....

d. anul în care România a înregistrat cel mai mare număr de locuitori (23,2 mil.). R.....



Evoluția numerică a populației României a fost influențată de mișcarea naturală și de mișcarea migratorie. Bilanțul natural al populației țării a înregistrat numeroase fluctuații, ca urmare a situațiilor economice din diferitele momente istorice și a politicilor demografice ale statului român.

*Analizați graficul de mai jos („Evoluția bilanțului natural din România”) și scrieți în fișa de lucru:*

a. intervalul cu bilanț natural pozitiv; R.....

b. valoarea maximă a bilanțului natural și anul în care s-a înregistrat;

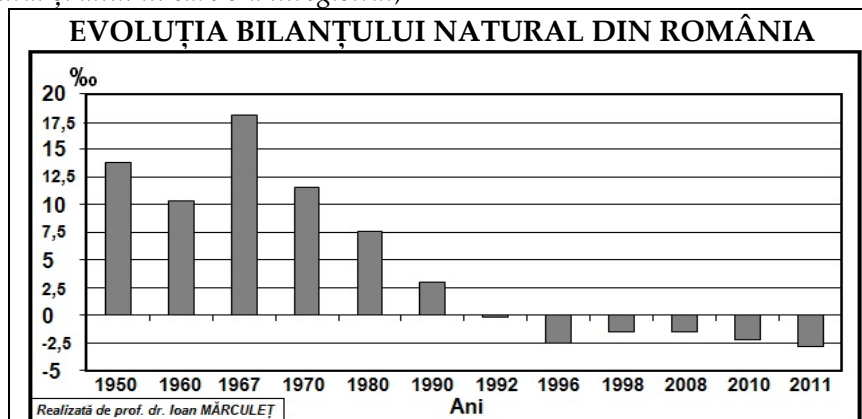
R.....

c. intervalul cu bilanț natural negativ;

R.....

d. valoarea minimă a bilanțului natural și anul în care s-a înregistrat.

R.....



⇒ Pe baza informațiilor avute și a cunoștințelor dobândite până în prezent, încercați să

**identificați cauzele care au determinat intervalul cu bilanț natural negativ din România.**

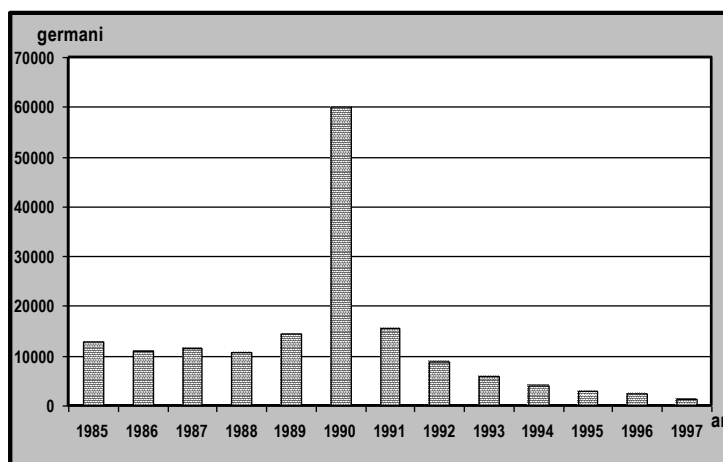
R.....  
.....  
.....  
.....

În România, după anul 1989 numărul celor care au părăsit definitiv țara a fost mai mare decât al celor care s-au stabilit. La acest proces a contribuit și emigrarea unor minorități etnice, cum a fost cea germană.

**Analizați graficul alăturat (→) și scrieți, în fișa de lucru, cele mai mari valori ale emigranților germani și anii în care s-au înregistrat.**

R.....  
.....

### EVOLUȚIA EMIGRAȚIEI POPULAȚIEI GERMANE DIN ROMÂNIA ÎNTRE 1985-1997



#### Lectură

Populația germană din România este foarte eterogenă. Sașii, germanii din Transilvania, cunoscuți în documente ca *Flandreuses*, *Teutonici* și *Saxones*, au fost colonizați de maghiari în secolele XII-XIII, din regiunile situate la vest de valea Rinului, cu menirea de a crea orașe pe care să le poată exploata prin impozite. Au fost grupați în sudul și nordul provinciei, în regiunile Sibiului, Brașovului, Târnavelor și Bistriței, unde au fost împărțiți în scaune și districte săsești. Tot în Transilvania, în regiunea orașului Sibiu, au mai fost aduși *landleri* (secolul al XVIII-lea), cunoscuți și sub numele de *transmigranți*. În secolele XVII-XIX au mai fost colonizați de austrieci *șvabii bănățeni* și *sătmăreni*, aduși ca agricultori din regiunea *Württemberg*, *țișterii* din *Maramureș*, ca *prelucrători în lemn*, și germanii din *Bucovina*, iar de către ruși germanii din sudul *Basarabiei* și *Dobrogea*. *Șvabii*, germanii din *Banat*, originari din *Boemia*, au ajuns în provincie în trei mari faze de colonizare – *carolina*, *tereziana* și *iozefina* – și au înființat numeroase așezări în centrul, nord-vestul și în regiunile miniere și forestiere montane [după I. Mărculeț, 1930-2002. *Aspecte privind germanii din România*, *Historia*, nr. 88, București, 2009, pag. 72].